

Baccalauréat Technologique

Session 2010

Histoire-Géographie

**Série : Sciences et Technologies de la Santé et du
Social**

Durée : 2 heures 30

Coefficient : 2

Les calculatrices ne sont pas autorisées

**Le candidat doit répondre à toutes les questions de la 1^{ère} partie.
10 points**

**Le candidat traitera au choix un seul des quatre exercices de la 2^{nde}
partie.
10 points**

*Ce sujet comporte 11 pages numérotées de 1/11 à 11/11.
La feuille **Annexe page 11/11** est à rendre avec la copie d'examen*

QUESTIONS OBLIGATOIRES

Questions d'histoire

- 1) Citez deux acteurs de la Guerre froide. (2 points)
- 2) Donnez deux caractéristiques de ce qu'est une décolonisation. (2 points)
- 3) En quelle année la Cinquième République voit-elle le jour ? (1 point)

Questions de géographie

- 4) Localisez sur la carte jointe **en annexe page 11/11 (à rendre avec la copie d'examen)** les trois aires de puissance mondiales et une ville de rang mondial. (2 points)
- 5) Choisissez la définition qui vous semble la plus pertinente pour la notion de « francophonie » : (1 point)
 - a) Ensemble des pays d'Europe qui ont la culture et la langue française comme trait d'union.
 - b) Ensemble des pays du monde dans lesquels le français est une des langues officielles.
 - c) Ensemble des pays du monde qui ont la culture et la langue française comme trait d'union.
- 6) Justifiez la phrase suivante : « Les firmes transnationales sont des acteurs importants de la mondialisation ». (2 points)

SECONDE PARTIE

Le candidat traitera au choix un seul sujet des quatre exercices

Exercices portant sur les sujets d'étude du programme d'histoire

Exercice 1 : sujet d'étude : l'Espagne : de la dictature à la démocratie et à l'intégration communautaire (1975-1986)

L'absence de régime démocratique dans notre pays constituait un obstacle à l'entrée de l'Espagne dans les Communautés européennes en tant que membre de plein droit. La demande du gouvernement espagnol adressée au Conseil de la Communauté Economique Européenne le 9 février 1962 ne produisit qu'un résultat purement commercial [...]

Entre 1977 et 1980, l'Espagne ratifia les Pactes internationaux relatifs aux droits civils, et aux droits économiques et culturels des Nations Unies. Elle devint membre du Conseil de l'Europe et signa la Convention européenne de sauvegarde des droits de l'homme et des libertés fondamentales. [...]

Le 5 février 1979, les négociations pour l'adhésion de l'Espagne aux Communautés européennes furent engagées. L'obtention d'une Europe unie ne pouvait être conçue sans inclure l'Espagne et le Portugal au sein des institutions communautaires. Le processus espagnol de transition vers la démocratie fut encouragé par les Communautés européennes et par toute l'Europe politique en général. Les gouvernements espagnols successifs, dirigés par les présidents du gouvernement Adolfo Suárez, Leopoldo Calvo-Sotelo et Felipe González, travaillèrent d'arrachepied en vue de la matérialisation des différentes phases de l'intégration de l'Espagne à l'Europe communautaire. Les négociations pour l'adhésion de l'Espagne durèrent sept années.

[...] Sous le gouvernement de Adolfo Suárez, l'élan considérable donné aux relations avec l'Europe permit de situer l'Espagne parmi les pays européens, démocratiques et occidentaux, donnant lieu ainsi à l'ouverture d'un dialogue direct et déterminé qui aboutirait au début des négociations d'adhésion de l'Espagne à la Communauté. L'Espagne commença dès lors à mettre en œuvre une politique étrangère reposant sur les valeurs européennes communes et sur le respect de la dignité de la personne.

<http://www.es-ue.org>, site consulté le 20 octobre 2009
(Représentation Permanente de l'Espagne devant l'Union Européenne)

Questions :

- 1) Pour quelle raison la première demande d'adhésion de l'Espagne à la CEE n'a-t-elle abouti qu'à un accord commercial ?
- 2) Expliquez l'expression soulignée dans le document.
- 3) Quelles ont été les étapes nécessaires pour que les négociations s'engagent véritablement entre l'Espagne et la CEE ?
- 4) Grâce à quels acteurs politiques l'Espagne a-t-elle pu intégrer la communauté européenne en 1986 ?
- 5) Quelles sont les « valeurs européennes communes » auxquelles le texte fait référence dans la dernière phrase ?

Exercice 2 : sujet d'étude : Berlin : une ville dans l'histoire, de 1945 à nos jours.

Document 1

12 août 1961 - Débordées par l'exode de leurs sujets, que les menaces et les simples tracasseries policières ne faisaient qu'accélérer, les autorités de la R.D.A. ont employé les grands moyens. Couvert, à ses propres yeux, par une déclaration des nations membres du pacte de Varsovie élaborée à Moscou lors de la dernière réunion de leurs dirigeants, le gouvernement de Berlin-Est a interdit aux habitants de la R.D.A. de se rendre à Berlin-Ouest sans un laissez-passer délivré spécialement à cette fin. Il a de même immédiatement ordonné aux cinq cent mille frontaliers qui prenaient chaque matin le métro pour aller travailler à Berlin-Ouest de chercher, à partir d'aujourd'hui, une occupation dans les entreprises de Berlin-Est.

Pour assurer l'efficacité de ces mesures draconiennes, la circulation des lignes de métro conduisant d'Est en Ouest dans l'ex-capitale du Reich a été arrêtée. Les stations frontalières ont été fermées, et les points de passage de la ligne de démarcation entre les deux Berlin ramenés de quatre-vingts à treize, devant lesquels veillent désormais d'importants détachements de la police et de l'armée populaire. Des barrières de fil de fer barbelé ont été disposées pour empêcher toute évasion par surprise. À moins d'un tour de force ou d'un *stratagème** heureux, il n'est plus question pour les Berlinoises de l'Est et les *transfuges*** en puissance de la R.D.A. de « choisir la liberté » en simulant une innocente promenade dans les secteurs occidentaux.

Le résultat (...) ne s'est pas fait attendre : quelques dizaines de réfugiés seulement parvinrent à rejoindre Berlin-Ouest dans la journée d'hier, contre plus de deux mille la veille.

Alain Clément, article paru dans *Le Monde*
du 15 août 1961

*stratagème : ruse

**transfuges : personnes qui ont quitté leur pays

Document 2



Questions :

- 1) Au moment où débutent les événements rapportés par ces documents, quel est l'état des relations internationales en Europe ?
- 2) Pour quelles raisons, d'après l'auteur du document 1, les autorités de la RDA décident-elles de rendre le passage de Berlin-Est à Berlin-Ouest plus difficile ?
- 3) Quels sont les moyens mis en œuvre avant le 12 août 1961 pour réaliser ce projet ?
- 4) Montrez que le document 2 illustre l'échec de ces mesures.
- 5) La situation évoquée par ces documents est-elle toujours d'actualité à Berlin ? Justifiez votre réponse.

Exercice 1 : Sujet d'étude : Londres, pôle décisionnel mondial.


Document 1

La City s'incarne avant tout dans le London Stock Exchange (LES), la bourse de Londres. Elle figure au premier rang mondial, devant Tokyo pour les activités bancaires et devant New-York pour les transactions et le marché des devises. Elle domine également le secteur de l'assurance symbolisé par la Lloyd's. La City accueille la banque d'Angleterre, plus de 500 banques étrangères en provenance des cinq continents, les sièges sociaux de grandes firmes nationales ou à forte participation nationale, comme Shell ou BP. 75% des 500 plus grandes compagnies mondiales y possèdent un bureau.

[...] La réussite de la place de Londres est due à sa forte capacité d'adaptation aux évolutions du marché, notamment, l'abolition du contrôle des changes ou la dérégulation initiée par Margaret Thatcher dans les années 1980. La City bénéficie également d'une fiscalité britannique avantageuse. Le statut de l'anglais, principale langue du commerce, lui confère un atout supplémentaire, d'autant plus que la ville, située sur le fuseau horaire de Greenwich, peut dialoguer en temps réel avec l'Asie le matin, New-York et Toronto l'après-midi.

Bailoni Mark et Papin Delphine, *Atlas géopolitique du Royaume Uni, les nouveaux défis d'une vieille puissance*, éditions Autrement 2009.

Document 2 : la City



Questions :

- 1) Décrivez le paysage du document 2. Comment l'architecture reflète-t-elle la modernité de Londres?
- 2) D'après le document 1, quelles activités dominent dans le quartier de la City ?
- 3) Comment se situe la place financière de Londres par rapport aux deux autres places financières mondiales ?
- 4) Comment expliquer la réussite de la City ?
- 5) Le rayonnement de Londres dépend-il uniquement de sa puissance financière ? Justifiez votre réponse.

Exercice 2 : sujet d'étude : Shanghai, métropole émergente

Document

Le centre de Shanghai ne se résume plus à Puxi. Lancée officiellement en avril 1990, et confirmée en octobre 1992, la « nouvelle zone de Pudong » doit jouer le rôle de « Tête de Dragon ». Vaste triangle de 522 km² à l'est du Huangpu il s'agit d'une vaste réserve foncière à seulement 700 m du vieux Shanghai congestionné. (...)

L'afflux massif de capitaux de l'État, de la municipalité et des investisseurs étrangers a permis d'engager l'aménagement et l'intégration accélérés de ce territoire. La connexion avec le vieux centre a été améliorée par la construction de deux imposants ponts suspendus d'un tunnel et d'un métro (ligne n° 2 de direction est-ouest).

D'un point de vue spatial, il y a lieu toutefois de distinguer au sein de Pudong deux grandes zones : une partie centrale composée surtout du quartier d'affaires de Lujiazui et une zone suburbaine et périurbaine au-delà du premier périphérique. Lujiazui concentre déjà autant de banques étrangères que Pékin, Canton et Shenzhen réunis ainsi que la Bourse de Shanghai.

On trouve dans les zones suburbaines le parc industriel de haute technologie de Caohejing et surtout, à Pudong, le parc d'exportation de Jinqiao et le parc de haute technologie de Zhangjiang, embryon de la future « Silicon Valley » de Shanghai. À au moins une vingtaine de km du centre, l'industrie lourde ou polluante de Shanghai se concentre elle dans diverses villes-satellites. Enfin, à l'ancien aéroport de Hongqiao est venu s'ajouter au sud-est celui de Pudong qui pourra accueillir 70 millions de passagers à l'international en bordure du Yangzi. Plus au nord, la zone portuaire de Waigaoqiao et à l'est le port en eaux profondes de Yangshan feront renouer Shanghai avec la mer.

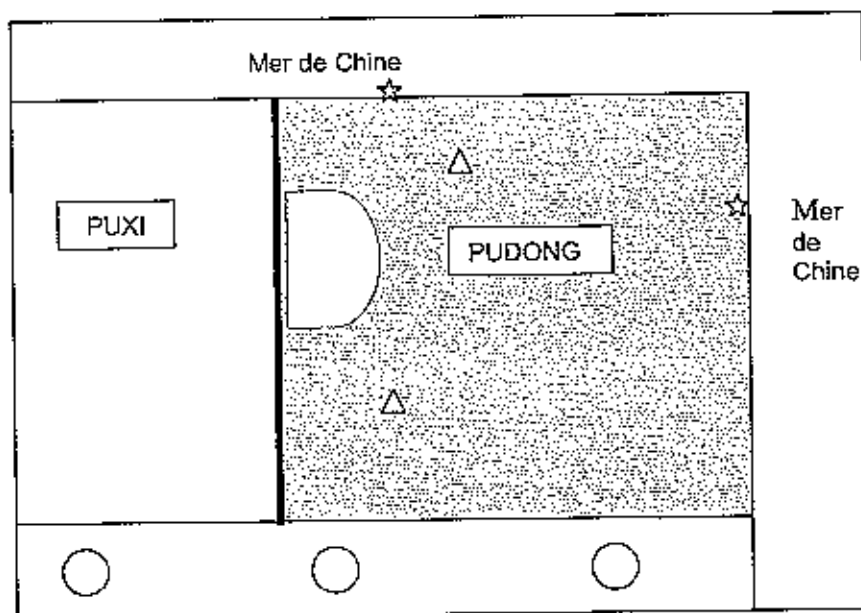
D'après Guillaume GIROIR : « Processus de développement et dynamiques régionales en Chine » in P.Larivière (dir.), La Chine et les Chinois de la diaspora, CNED/SEDES, 1999, pp.172-173

Questions :






- 1) Expliquez pourquoi les autorités chinoises ont décidé de développer la zone de Pudong.
- 2) Quels sont les acteurs majeurs qui ont permis de financer ce développement ?
- 3) Quels aménagements ont été réalisés pour contribuer à l'essor de Shanghai et à son ouverture ?
- 4) A partir du texte, complétez la légende du schéma de Shanghai sur le document fourni en annexe page 10/11 (à rendre avec la copie)

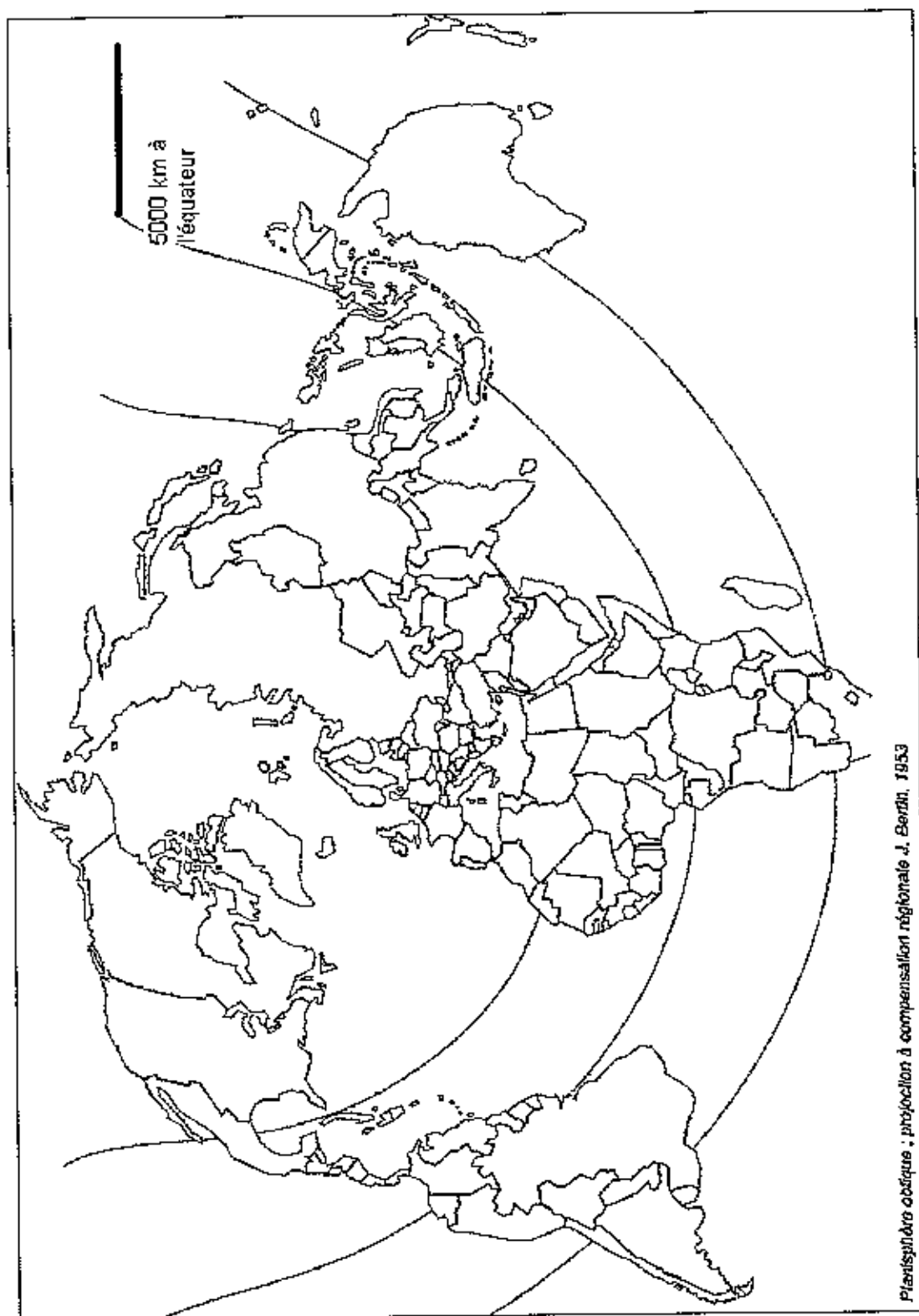
Annexe à rendre avec la copie d'examen

Schéma de Shanghai



Légende

	Huangpu
 (à remplir)	Zone suburbaine et périurbaine
 (à remplir)	Quartier des affaires
 '(à compléter)
 '(à compléter)
..... '(à compléter)	Ville satellite



Légende :

10HG2SPO



Aire de puissance mondiale

● Ville monde